



Rewarding Learning

General Certificate of Secondary Education
2014

Uimhir Lárionaid

--	--	--	--	--

Uimhir Iarrthóra

--	--	--	--

Teicneolaíocht Faisnéise agus Cumarsáide (Cúrsa Iomlán)

Aonad 3: Tuiscint ar Chórais TFC
atá i nGnáthúsáid an Lae agus
na hImpleachtaí atá ann don
Duine Aonair, d'Eagraíochtaí, don
tSochaí agus don Domhan Mhór
[GIT31]



GIT31

DÉ CÉADAOIN 14 BEALTAINE, MAIDIN

AM

2 uair an chloig.

TREOIR D'IARRTHÓIRÍ

Scríobh d'Uimhir Lárionaid agus d'Uimhir Iarrthóra sna spásanna chuige sin ag barr an leathanaigh seo.

Scríobh do fhreagraí sna spásanna chuige sin sa scrúdpháipéar seo.

Comhlánaigh le dúch gorm nó le dúch dubh amháin. **Ná scríobh le peann luaidhe ná le peann glóthaí.**

Freagair **gach ceann** de na **hocht gceist déag**.

EOLAS D'IARRTHÓIRÍ

Is é **180** an marc iomlán don pháipéar seo.

Léiríonn figiúirí idir lúibíní ar thaobh na láimhe deise de leathanaigh na marcanna atá ag dul do gach ceist nó do gach cuid de cheist.

Measúnófar caighdeán na cumarsáide scríofa i gceisteanna **3(b)**, **5(b)**, **7(b)**, **8**, **12(d)** agus **14(d)**.



I gceist 1 cuir an litir chuí sa spás chuige sin

Scrúdaitheoir
Amháin
Marcanna Athmharc

- 1 (a) Cé acu ráiteas atá fíor maidir le slis chárta cliste?
- A Tá toilleadh stórais níos lú ag slis chárta cliste ná mar atá ag stiall mhaighnéadach agus ní féidir sonraí ar shlis chárta cliste a nuashonrú
 - B Tá toilleadh stórais níos lú ag slis chárta cliste ná mar atá ag stiall mhaighnéadach agus is féidir sonraí ar shlis chárta cliste a nuashonrú
 - C Tá toilleadh stórais níos mó ag slis chárta cliste ná mar atá ag stiall mhaighnéadach agus is féidir sonraí ar shlis chárta cliste a nuashonrú
 - D Tá toilleadh stórais níos mó ag slis chárta cliste ná mar atá ag stiall mhaighnéadach agus ní féidir sonraí ar shlis chárta cliste a nuashonrú

Freagra _____ [1]

- (b) Chomh maith le ríomhaire, tá na rudaí seo a leanas de dhíth leis an Idirlíon a rochtain:

- A Ceamara Gréasáin, Líne Theileachumarsáide, Soláthraí Seirbhísí Idirlín
- B Soláthraí Seirbhísí Idirlín, Líne Theileachumarsáide, Ródaire
- C Líne Theileachumarsáide, Ceamara Gréasáin, Ródaire
- D Líne Theileachumarsáide, Soláthraí Seirbhísí Idirlín, Ríomhphost

Freagra _____ [1]

- (c) Cé acu de na cinn seo a leanas nach feidhm de chóras oibriúcháin ríomhaire é:

- A Cuireann sé comhéadan ar fáil don úsáideoir le hidirghníomhú leis na cruá-earraí
- B Leithdháileann sé CRR (RAM) ar chláir agus ar shonraí
- C Rialaíonn sé gléasanna forimeallacha
- D Cuireann sé rochtain ar an Idirlíon ar fáil

Freagra _____ [1]



(d) Roghnaigh an ráiteas a chuireann síos ar an fheidhm atá le digiteoir grafaicí.

- A Bíonn grafaicí ardcháilíochta á bpriontáil ag digiteoir grafaicí
- B Nascann an digiteoir grafaicí an monatóir leis an mháthairchlár
- C Is é an digiteoir grafaicí an príomhchlár ciorcad leictreonach i ríomhaire
- D Baineann digiteoir grafaicí úsáid as stíleas le sonraí a ionchur

Freagra _____ [1]

(e) Forbair an t-acrainm BUS (USB):

- A Beart Uilíoch Srathach
- B Beart Uileghabhálach Srathach
- C Bus Uilíoch Srathach
- D Bus Uileghabhálach Srathach

Freagra _____ [1]

(f) Roghnaigh an ráiteas atá fíor maidir le teicneolaíocht flaischuimhne.

- A Níl aon pháirteanna gluasteacha aici agus ní ídíonn sí ach fíorbheagán cumhachta
- B Feidhmíonn sí ag úsáid cnogaí léite/scríofa agus úsáidtear í le sonraí a stóráil
- C Níl aon pháirteanna gluasteacha aici agus tá soláthar mór cumhachta de dhíth lena feidhmiú
- D Feidhmíonn sí ag úsáid cnogaí léite/scríofa agus ní ídíonn sí ach fíorbheagán cumhachta

Freagra _____ [1]

Scrúdaitheoir Amháin	
Marcanna	Athmharc

[Tiontaigh an leathanach



(g) Cé acu de na rudaí seo a leanas ar gnéithe uilig iad de theilifís dhigiteach?

- A** Leibhéil arda trasnaíochta, pictiúr de dhroch-cháilíocht agus níos mó cainéal
- B** Níos lú cainéal, pictiúr d'ardcháilíocht agus trasnaíocht laghdaithe
- C** Eolaire leictreonach clár, níos lú cainéal agus pictiúr d'ardcháilíocht
- D** Níos mó cainéal, eolaire leictreonach clár agus pictiúr d'ardcháilíocht

Freagra _____ [1]

(h) Ciallaíonn iniomparthacht mhaith sonraí:

- A** Go n-úsáideann na sonraí stóráilte fíorbheagán spás stórála
- B** Nach féidir na sonraí a aistriú ó chóras amháin go córas eile
- C** Gur féidir na sonraí a aistriú go furasta ó chóras amháin go córas eile
- D** Go n-úsáideann na sonraí stóráilte a lán spás stórála

Freagra _____ [1]

(i) Roghnaigh an ráiteas atá fíor maidir le cábla snáthoptaice.

- A** Iompraíonn cábla snáthoptaice sonraí i mbíoga solais ach baineann trasnaíocht leis
- B** Iompraíonn cábla snáthoptaice sonraí mar chomharthaí leictreonacha agus ní bhaineann trasnaíocht leis
- C** Iompraíonn cábla snáthoptaice sonraí mar chomharthaí leictreonacha agus baineann trasnaíocht leis
- D** Iompraíonn cábla snáthoptaice sonraí i mbíoga solais agus ní bhaineann trasnaíocht leis

Freagra _____ [1]



(j) Cé acu de na rudaí seo a leanas is fearr a chuireann síos ar íocón nuair atá CGÚ (GUI) á úsáid?

- A Grafaic a ndearnadh bearradh uirthi
- B Grafaic a léiríonn aicearra chuig clár
- C Grafaic a chuirtear ar fáil ar roghchlár anuas
- D Grafaic a chruthaítear nuair a osclaítear clár

Freagra _____ [1]

Scrúdaitheoir Amháin	
Marcanna	Athmharc
Iomlán Cheist 1	

[Tiontaigh an leathanach



- 2 Anseo thíos tá scarbhileog shimplí a chruthaigh Anna. Tá sí i mbun scoil drámaíochta agus tá sí ag iarraidh a fháil amach cad é an brabús féideartha a bheidh aici bunaithe ar na táillí a ghearrann sí.

	A	B	C	D	E	F	G	H
1	Ainm Ceachta	Lá na Seachtaine	Ionad	Líon Daoine	Ioncam Iomlán	Cíos Ionaid	Árachas	Brabús
2	Filíocht	Dé Luain	Seomra Staidéir	22	£ 110.00	£ 45.00	£ 22.00	£ 43.00
3	Drámaíocht Aonair	Dé Luain	Stiúideo	10	£ 50.00	£ 45.00	£ 5.00	£ 0.00
4	SpraoiThoisce-X	Dé Máirt	Halla Mór	20	£ 100.00	£ 60.00	£ 5.00	£ 35.00
5	DianDamhsa	Déardaoin	Halla Mór	20	£ 100.00	£ 70.00	£ 5.00	£ 25.00
6								
7							Brabús Iomlán	£ 103.00
8								
9		Cá mhéad a ghearrfaidh mé?	£ 5.00					

- (a) Scríobh an fhoirmle a mbeifeá ag dúil lena fáil i gcill H7.

_____ [1]

- (b) Sa tábla thíos, ticeáil (✓) foirmle **amháin** a mbeifeá ag dúil lena fáil i gcill H4.

Foirmle	Ticeáil (✓)
D4-G4-F4	
E4+F4-G4	
E4-F4-G4	

[1]

Scrúdaitheoir Amháin	Marcanna Athmharc



(c) Gearrtar árachas mar a thaispeántar thíos:

Líon Daoine	Costas
Suas le 20 duine	£5.00
Níos mó ná 20 duine	£1.00 an duine

Sa tábla thíos, ticeáil (✓) **dhá** fhoirmle a thabharfadh an toradh ceart i gcill G2.

Foirmle	Ticeáil (✓)
If(D2<=20,5,D2*1)	
If(D2>20,D2*1,5)	
If(D2<=20,D2*1,5)	
If(D2>20,5,D2*1)	

[2]

(d) Cad é mar is féidir cill C9 a úsáid le cuidiú le brabús a thuar?

[2]

(e) Scrúdaigh colún an Bhrabúis. Cad é an chomhairle a thabharfá d'Anna faoi gach rang atá á reáchtáil aici?

[2]

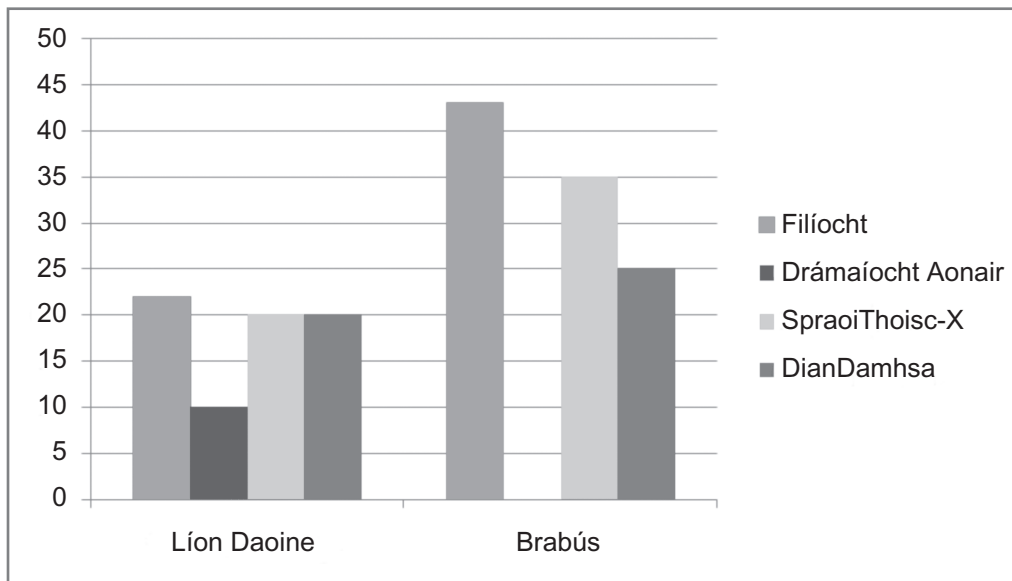
Scrúdaitheoir
Amháin

Marcanna Athmharc

[Tiontaigh an leathanach



(f) Cé acu trí raon cille ar baineadh úsáid astu leis an ghráf atá á thaispeáint a chruthú?



_____ [3]

(g) Ba mhaith le hAnna an graf a chruthú ag úsáid macra.

(i) Cad é an rud é macra?

_____ [2]

(ii) Cuir síos ar an dóigh a gcruthaítear macra i scarbhileog.

_____ [2]

Scrúdaitheoir Amháin	
Marcanna Athmharc	
Iomlán Cheist 2	





NÁ SCRÍOBH AR AN LEATHANACH SEO
(Leanann ceisteanna ar an chéad leathanach eile)

[Tiontaigh an leathanach

8642.02



40GIT3109

3 Oibríonn Eleanor do Bhanc NIGOLD. Ba mhaith leis an bhanc cuntais nua do mhic léinn a chur chun cinn.

(a) Ón liosta thíos, ticeáil (✓) **dhá** ráiteas ar buntáistí iad as baincéireacht ar líne a dhéanamh.

Ráiteas	Ticeáil (✓)
Is féidir le fostaithe an bhainc a bheith ag obair ón bhaile	
Beidh foireann níos lú de dhíth i mbrainsí den bhanc	
Beidh laghdú ar fhorchostais amhail cíós ar fhoirgnimh	
Caithfear níos mó brainsí den bhanc a oscailt	

[2]

Scrúdaitheoir Amháin	
Marcanna	Athmharc





(b) Iarradh ar Eleanor baincéireacht ar líne a mhíniú do mhic léinn nua atá ag tosú ar an ollscoil. Iarradh ort a cuid nótaí cainte a scríobh faoi na teidil seo a leanas.

- Buntáistí as baincéireacht ar líne do chustaiméirí
- Tábhacht na suíomhanna slána gréasáin
- Criptiú

Scríobh na nótaí cainte sa spás a chuirtear ar fáil chuige.

Buntáistí as baincéireacht ar líne do chustaiméirí:

Tábhacht na suíomhanna slána gréasáin:

Criptiú:

[6]

Scrúdaitheoir Amháin	
Marcanna	Athmharc
Iomlán Cheist 3	

[Tiontaigh an leathanach



4 Ceadáíonn Coláiste an Iarthair do dhaltáí ó scoil eile staidéar a dhéanamh ar TFC (*ICT*) GCSE. Baineann na daltaí seo úsáid as Timpeallacht Fhíorúil Foghlama (TFF) (*VLE*) agus as físchomhdháil lena gcuid staidéar a dhéanamh.

(a) Seachas ábhair a uaslódáil agus a íoslódáil, mínigh **dhá** ghné eile den TFF (*VLE*) a d'fhéadfaí a úsáid le TFC (*ICT*) GCSE a theagasc.

1. _____

2. _____

[4]

(b) Mínigh **dhá** mhíbhuntáiste do dhaltáí as an TFF (*VLE*) a úsáid le hiad a theagasc.

1. _____

2. _____

[4]

Scrúdaitheoir Amháin	Marcanna Athmharc





(c) Agus físchomhdháil in úsáid ag an scoil, caithfidh siad cinnte a dhéanamh de go bhfuil bandaleithead go leor acu.

(i) Seachas ríomhaire, liostaigh trí phíosa trealaimh atá de dhíth le físchomhdháil a dhéanamh.

1. _____

2. _____

3. _____ [3]

(ii) Cad é an rud é bandaleithead?

_____ [2]

(iii) Cad é mar a thig le bandaleithead dul i bhfeidhm ar fhíschomhdháil?

_____ [2]

Scrúdaitheoir
Amháin

Marcanna Athmharc

Iomlán Cheist 4

[Tiontaigh an leathanach

8642.02



40GIT3113

5 Tá comhlacht rathúil clódóireachta ag Seán. Tá imní air faoin lorg carbóin atá á chruthú ag a chomhlacht agus faoin tionchar a imríonn a chomhlacht ar an timpeallacht.

(a) Luaigh cad é an chiall atá le lorg carbóin agus luaigh **dhá** dhóigh a mbíonn tionchar aige ar an timpeallacht.

[3]

Scrúdaitheoir Amháin	
Marcanna	Athmharc



6 Ba mhaith le Ruth eagarthóireacht a dhéanamh ar phictiúir ar a ríomhaire. Tá na pacáistí bogearraí seo a leanas ar fáil ar a ríomhaire.

(a) Ón liosta thíos, ticeáil (✓) an pacáiste bogearraí is cuí le heagarthóireacht a dhéanamh ar phictiúir.

Pacáiste Bogearraí	Ticeáil (✓)
Bogearraí Láithreoireachta	
Bogearraí Bunachar Sonraí	
Bogearraí Grafaicí	
Bogearraí Scarbhileoige	

[1]

(b) Cuireann Ruth na pictiúir agus na comhaid eile chuig a cara Ahmed i bhfillteán zipeáilte. Ní thig leis an fillteán a oscailt.

(i) Luaigh fáth **amháin** nach mbeadh Ahmed ábalta an fillteán zipeáilte a oscailt.

_____ [1]

(ii) Luaigh **dhá** bhuntáiste as rudaí a sheoladh trí ríomhphost san fhormáid seo.

1. _____

2. _____ [2]

(c) Sa tábla thíos tá na **trí** chineál dhifriúla de chomhad sonraí atá i bhfillteán Ruth. Cuir na hiarmhíreanna comhadainm seo a leanas JPEG, MPEG agus MP3 leis an chomhad sonraí cheart.

Comhad sonraí	Iarmhír comhadainm
Comhaid cheoil	
Comhaid ghrafacha	
Físchomhaid	

[3]

Scrúdaitheoir
Amháin

Marcanna Athmharc

Iomlán Cheist 6



- 9 (a) Tá Fístéipeanna Zen ag tógáil bunachar sonraí nua. Taispeánann an fhíor thíos struchtúr an tábla atá á chur i dtreoir ina bpacáiste bunachar sonraí. FÍSTÉIP an teideal atá ar an tábla.

FÍSTÉIP	Ainm Réimse	Cineál Sonraí	Cur Síos
UimhirFistéipe		Uimhir	Uimhir Fistéipe – Réimse Príomhúil nó Eochair-réimse
TeidealFistéipe			Teideal na fístéipe
Seánra			Rangú na Fistéipe, m.sh. Greann, Cogadh srl.
Dáta Eisithe			An dáta ar eisíodh an fhistéip
SaStoc			An bhfuil an fhistéip sa stoc

Sa tábla thíos cuir isteach cineálacha sonraí do na réimsí sa struchtúr tábla Fístéip. Tá an chéad cheann déanta duit.

Ainm Réimse	Cineál Sonraí
UimhirFistéipe	Uimhir
TeidealFistéipe	
Seánra	
Dáta Eisithe	
SaStoc	

[4]

- (b) Ní mór roinnt sonraí a chur isteach i bhformáid áirithe. Cuir isteach na focail chearta ón liosta atá curtha ar fáil leis an abairt thíos a chomhlánú.

Cineál Sonraí

Seiceáil Faid

Masc Ionchuir

Teachtairacht Earráide

Sonraíonn _____ formáid na sonraí atá á gcur isteach. [1]

[Tiontaigh an leathanach



FÍSTÉIP		
Ainm Réimse	Cineál Sonraí	Cur Síos
UimhirFistéipe	Uimhir	Uimhir Fistéipe – Réimse Príomhúil nó Eochair-réimse

San fhíor thuas, taispeántar an réimse UimhirFistéipe agus cuirtear síos air mar Réimse Príomhúil nó Eochair-réimse.

(c) Cad chuige a bhfuil Réimse Príomhúil nó Eochair-réimse riachtanach sa tábla Fístéip?

_____ [1]

Cruthaítear tábla iasachta fosta. Taispeánann an léaráid thíos an gaol idir na táblaí Iasacht agus Fístéip.



(d) Ón liosta thíos, ticeáil (✓) an gaol a thaispeántar idir na táblaí Fístéip agus Iasacht.

Cineál Gaoil	Ticeáil (✓)
Aon le hAon	
Aon le Mórán	
Mórán le Mórán	

[1]



- (e) Táirgeann Fístéipeanna Zen an tuarascáil mhíosúil seo a leanas a thaispeánann cé acu de na baill a thug fístéipeanna ar ais agus an luach iomlán a bhí ar gach iasacht.

TUARASCÁIL MHÍOSÚIL AR FHÍSTÉIPEANNA A TUGADH AR AIS

CÉAD AINM	SLOINNE	TEIDEAL	PRAGHAS	TUGTHA AR AIS
William	Black	Ice Age	£2.50	<input checked="" type="checkbox"/>
			£2.50	
Kalif	Omar	The Matrix	£3.00	<input checked="" type="checkbox"/>
		Perfect Storm	£3.00	<input type="checkbox"/>
		Big Daddy	£3.00	<input type="checkbox"/>
			£9.00	
Peter	Sergant	Shrek	£3.50	<input type="checkbox"/>
		Gladiator	£3.50	<input checked="" type="checkbox"/>
		Forrest Gump	£3.50	<input type="checkbox"/>
			£10.50	
Oisín	Dundas	Da Vinci Code	£4.00	<input checked="" type="checkbox"/>
			£4.00	

- (i) Agus an tuarascáil seo á déanamh, bhain Fístéipeanna Zen úsáid as draoi. Cad é is draoi ann?

_____ [2]

- (ii) Cuir ciorcal thart ar ghné **amháin** ar baineadh úsáid aisti leis an Tuarascáil Mhíosúil ar Fhístéipeanna a Tugadh Ar Ais a thaispeántar a eagrú.

SÓRTÁIL ARDAITHEACH GRÚPA FOTHEIDEAL

[1]

- (iii) Tá tuarascáil cosúil leis seo de dhíth ar an úinéir ach níor mhaith leis a chur isteach ach na fístéipeanna a tugadh ar ais. Scríobh síos na critéir atá de dhíth leis na fístéipeanna sin a tugadh ar ais amháin a roghnú.

_____ [1]

[Tiontaigh an leathanach



10 (a) Sa tábla thíos, ticeáil (✓) an dá ráiteas atá fíor faoi ghléasanna digiteacha.

Ráiteas	Ticeáil (✓)
Laghdaíonn úsáid AMO (OMR) earráidí iontrála	
Beidh níos mó scileanna TFC (ICT) de dhíth le scáileán tadhaill a úsáid ná le méarchlár a úsáid	
Ní thig le ceamaraí digiteacha nua-aoiseacha gearrthóga físe gairide a thaifeadadh	
Nuair a scantar íomhá le scanóir, déantar a cáilíocht a thomhas i bponcanna san orlach	

[2]

(b) Úsáid na focail a thaispeántar thíos leis na habairtí seo a leanas a chomhlánú. (Ní bhainfeadh úsáid as gach focal).

Printéirí tuisneamhacha	Scairdphrintéirí	Printéirí léasair	Breacairí
-------------------------	------------------	-------------------	-----------

Is é an buntáiste a bhaineann le _____ a úsáid ná gur féidir le gnólachtaí léaráidí mionsonraithe d'ardcháilíocht a chruthú. Tá _____ níos fóirsteanáil le méideanna móra sonraí a phriontáil. Is é atá sna _____ ná cnoga printéara a bhfuil soic ann.

[3]

Scrúdaitheoir Amháin	Marcanna Athmharc



(c) Tá Ciarán ag foghlaim faoin chuimhne ina ríomhaire.

(i) Liostaigh **dhá** aonad a úsáidtear le toilleadh cuimhne i ríomhaire a thomhas.

1. _____

2. _____ [2]

(ii) Tá CRR (*RAM*) i ríomhaire Chiaráin. Luaigh gné **amháin** de CRR (*RAM*).

_____ [1]

(d) Tá 20 scannán dar fad ama 1 uair an chloig nó níos mó stóráilte ag Ciarán ar thiomántán crua a ríomhaire. Tá gléas de dhíth air a chuirfidh ar a chumas dó na comhaid seo a chúltaicé.

Mol gléas fóirsteanach cúltaca agus luaigh buntáiste **amháin** a bhaineann leis an ghléas seo a úsáid.

_____ [2]

(e) Baineann Ciarán úsáid as gléasanna móibíleacha cumarsáide.

Sa tábla thíos, cuir isteach an teicneolaíocht gléasanna gan sreang is fóirsteanáil le gach ceann de na tascanna seo a leanas a dhéanamh. Bain úsáid as teicneolaíocht gléasanna gan sreang dhifriúil do gach freagra.

Tasc	Teicneolaíocht atá de dhíth
Ríomhaire glúine a cheangal de ródaire	
Nasc a dhéanamh le guthán póca eile le sonraí a aistriú	
Úsáid a bhaint as guthán póca leis an Idirlíon a rochtain nuair nach mbíonn DGS (<i>Wi-Fi</i>) ar fáil	

[3]

lomlán Cheist 10

[Tiontaigh an leathanach



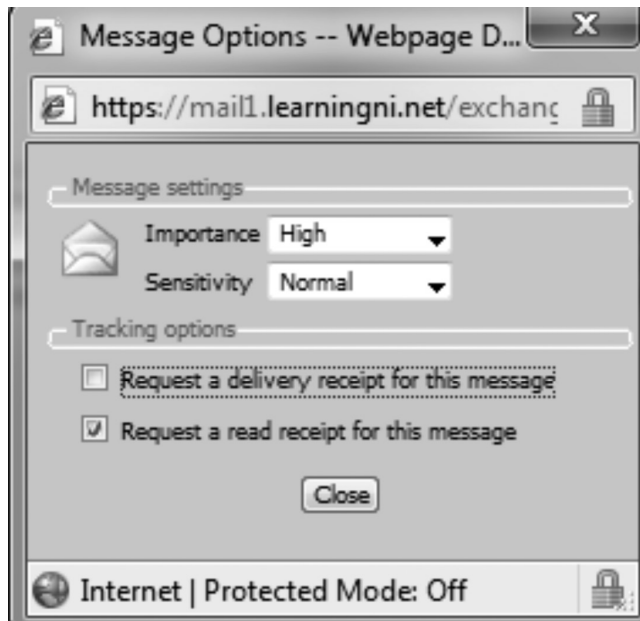
11 Ba mhaith le Sinéad ríomhphost a chur chuig an mhúinteoir TFC (ICT) aici.

Tá litir déanta ar an phríoiseálaí focal aici agus ba mhaith léi í a chur chuig an mhúinteoir mar chuid den ríomhphost.

(a) Luaigh an bealach is cuí do Sinéad an litir seo a chur isteach mar chuid dá ríomhphost.

[1]

Sula gcuireann sí an ríomhphost, roghnaíonn Sinéad na roghanna teachtaireachta seo a leanas.



(b) Roghnaíonn sí Ard-Tábhacht (*High Importance*). Cad é mar a rachaidh sé seo i bhfeidhm ar an dóigh a bhfeicfear an ríomhphost i mbosca isteach a múinteora?

[1]



(c) Míneigh an dóigh a bhfuil “admháil léite” (“*read receipt*”) difriúil le “admháil seachadta” (“*delivery receipt*”).

[2]

Scrúdaitheoir Amháin	
Marcanna	Athmharc
Iomlán Cheist 11	

[Tiontaigh an leathanach



12 Tá rang Pheadair ag obair ar thionscadal a bhaineann le Teicneolaíocht agus Dearadh.

Mar chuid den tionscadal caithfidh siad cairtín a dhearadh a dtig leis na daltaí i ranganna eile é a dhéanamh ansin. Baineann siad úsáid as an Idirlíon le taighde a dhéanamh ar smaointe faoi choinne a gcuid dearáí.

Baineann scoileanna úsáid as scagairí le rochtain na ndaltaí ar an Idirlíon a theorannú.

- (a)** Cad é mar is féidir le húsáid scagairí cuidiú leis na suíomhanna gréasáin ar an Idirlíon a theorannú a bhfuil rochtain ag daltaí orthu?

[2]

Nuair a chomhlánaíonn daltaí a gcuid taighde, foghlaimíonn siad faoi dhearadh táirgí ag baint úsáid as bogearraí FRC (CAL).

- (b)** Mínigh an giorrúchán FRC (CAL).

[1]

- (c)** Luaigh **dhá** bhuntáiste do na daltaí as FRC (CAL) a úsáid.

1. _____

2. _____ [2]

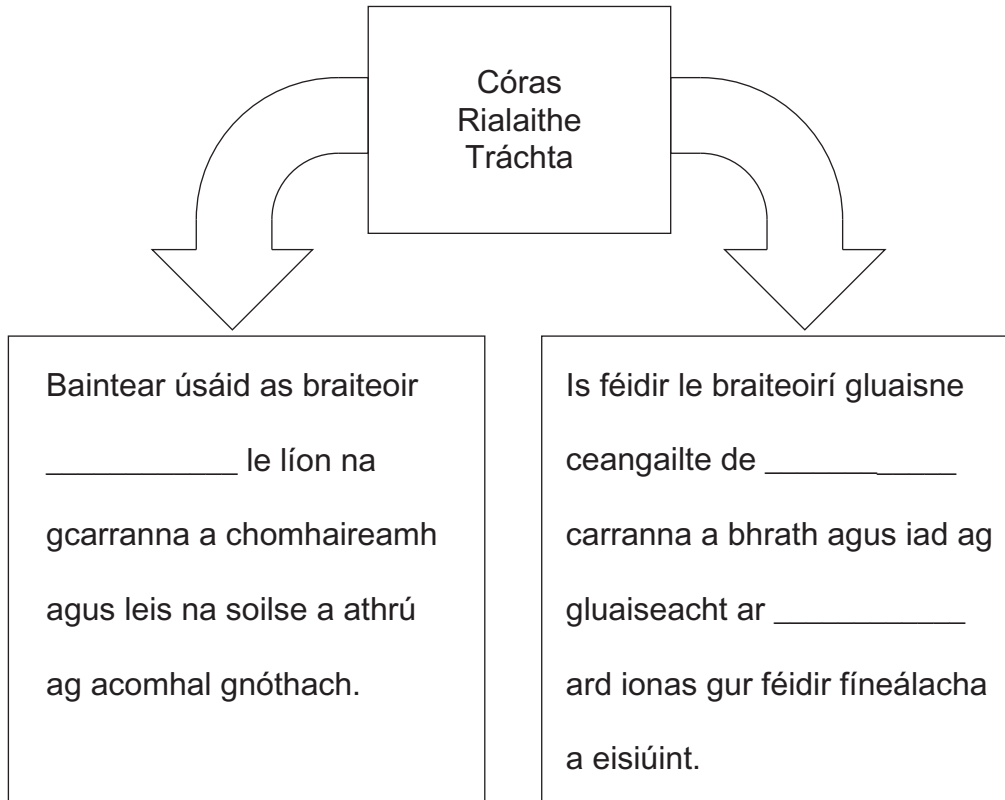
Scrúdaitheoir Amháin	Marcanna Athmharc



13 Baineann an chuid is mó de na bailte agus na cathracha gnóthacha úsáid as córais ríomhaireachta le cuidiú leis an trácht a rialú.

(a) Comhlánaigh an léaráid seo a leanas trí na focail atá liostaithe thíos a úsáid le míniú a thabhairt ar an dóigh a gcuideodh ríomhairí le trácht a bhainistiú i mbaile gnóthach. (Ní bhainfear úsáid as na focail uilig).

Luas Brú Ceamaraí
Taise Carranna Solas



[3]



(b) Comhlánaigh an tábla thíos, a thaispeánann an dóigh a ndéanann córais ríomhrialaithe bainistíocht ar spásanna páirceála i gcarrchlóis bhaile, trí cé acu an sampla d'Ionchur/de Phróiseas/d'Aschur/d'Aiseolas é gach gníomh a lua.

Ní féidir gach rogha a úsáid ach aon uair amháin. Tá an chéad sampla comhlánaithe duit.

Gníomh	Ionchur/Próiseas/Aschur/Aiseolas
Cláraíonn braiteoirí na carranna de réir mar a thagann siad isteach agus mar a fhágann siad an carrchlós	Ionchur
Nuair a thagann carr isteach sa charrchlós priontáiltear ticéad ar a bhfuil mionsonraí den dáta agus den am iontrála	
Ríomhtar líon iomlán na gcarranna sa charrchlós agus cuirtear é sin i gcomparáid le líon na spásanna atá ar fáil	
Mura bhfuil níos mó spásanna ar fáil ní ardóidh bacainn an charrchlóis don chéad charr eile	

[3]

Scrúdaitheoir Amháin

Marcanna Athmharc

lomlán Cheist 13

[Tiontaigh an leathanach

8642.02



40GIT3129

14 Tá cluiche ríomhaire spás-ionróirí á chruthú ag Morgan mar chuid den mheasúnú rialaithe GCSE aige.

Caithfidh aiseolas don úsáideoir a bheith sa chluiche aige.

(a) Cuir tic (✓) faoi **dhá** shampla den aiseolas a úsáidtear nuair atáthar ag imirt cluichí ríomhaire.

Liosta treoracha sa chóras cabhrach	Taispeántas den líon beathaí atá fágtha	Roghanna deacrachta a roghnú ag tús an chluiche	Cnaipe Cabhrach agus Sosa ar fáil ar an scáileán	Seinntear fuaimneanna nuair a scriostar spáslong choimhthíoch
-------------------------------------	---	---	--	---

Ticeáil (✓)

[2]

Caithfidh Morgan Áis Chabhrach a chruthú mar chuid dá chluiche ríomhaire ach níl sé cinnte faoi cad é ba chóir a bheith istigh ann.

(b) Sainaithin **dhá** phíosa faisnéise ba chóir a bheith in Áis Chabhrach.

1. _____

2. _____

[2]

Scrúdaitheoir Amháin	
Marcanna	Athmharc



Cuid de na grafaicí a chuir Morgan isteach ina chluiche, is i bhformáid ghiotánmhapach iad.

(c) Tabhair **dhá** chúis le nach mbeadh sé seo ina fhoráid chuí do ghrafaicí a úsáidtear i gcluiche ríomhaire.

1. _____

2. _____

_____ [2]

(d) Iarrann Morgan ar a chara a chluiche comhlánaithe a thástáil. Ba mhaith leis a bheith cinnte go n-oibríonn a chóras scórála agus a chóras nascleanúna i gceart. Míniú go mion an dóigh a ndéanfaidh cara Morgan tástáil ar gach ceann de na codanna seo de chluiche ríomhaire.

An córas scórála a thástáil:

An córas nascleanúna a thástáil:

_____ [6]

Scrúdaitheoir
Amháin

Marcanna Athmharc

lomlán Cheist 14

[Tiontaigh an leathanach



16 Tá larsmalann Fran ag cur tionscadal staire i gcrích.

- (a) Tugann bainisteoir Fran cóip phriontáilte de sheandoiciméad di. Ba mhaith léi é seo a chur isteach sa tionscadal. Sainaithin dóigh **amháin** a dtiocfadh le Fran an doiciméad priontáilte a thiontú ina fhormaid dhigiteach.

_____ [1]

- (b) Cuireann a bainisteoir i gcuimhne di a thábhachtaí atá sé tagairtí a thabhairt dá foinsí faisnéise.

- (i) Cén dlí a sháróidh sí mura dtugann sí tagairtí dá foinsí?

_____ [1]

- (ii) Tá sonraí bailithe ag Fran ó chuairoteoirí a bhíonn ag teacht chun na hiarsmalainne. Caithfidh sí na sonraí a stóráil de réir an tAcht um Chosaint Sonraí. Liostaigh **trí** phrionsabal den acht seo.

1. _____

2. _____

3. _____ [3]

- (iii) Caithfidh Fran scríobh chuig an Choimisinéir Faisnéise thar ceann na hiarsmalainne. Cad é a dhéanann an Coimisinéir Faisnéise?

_____ [1]

- (iv) Ceapann an larsmalann Fran mar Rialaitheoir Sonraí. Luaigh cad é an fhreagracht a bheidh uirthi.

_____ [1]

Scrúdaitheoir
Amháin

Marcanna Athmharc

[Tiontaigh an leathanach



Tá slótán breise ar thaobh cheamara digiteach Fran agus níl Fran cinnte cad é is feidhm leis.



© CCEA

(e) Cuir ciorcal thart ar an fhreagra cheart ón liosta thíos lena thaispeáint do Fran cad é is feidhm leis an slótán seo.

Peann Cuimhne BUS (USB) Cárta Cuimhne DS (SD) Cadhnra [1]

(f) Ba mhaith le Fran cuid dá grianghraif a úsáid ar shuíomh gréasáin na hiarsmalainne. Liostaigh **dhá** phointe ar cóir do Fran machnamh a dhéanamh orthu agus í ag measúnú oiriúnacht gach íomhá don chuspóir seo.

1. _____ [1]

2. _____ [1]

Scrúdaitheoir Amháin	
Marcanna	Athmharc
Iomlán Cheist 16	

[Tiontaigh an leathanach



17 Bíonn Leictreachas Aontaithe ag léamh mhéadair na gcustaiméirí gach trí mhí leis na billí a tháirgeadh. Déantar iad seo a stóráil i gcomhad idirbheartaíochta.

(a) Cad é is comhad idirbheartaíochta ann?

_____ [2]

(b) Táirgtear billí do na custaiméirí go léir ag an am chéanna.

(i) Cén cineál próiseála a úsáidtear leis na billí leictreachais a tháirgeadh?

_____ [1]

(ii) Tabhair **dhá** chúis a bhfuil an cineál próiseála seo fóirsteanach le billí leictreachais a tháirgeadh.

1. _____

2. _____ [2]

(c) Seo thíos tacar sonraí custaiméara ón chomhad idirbheartaíochta.

Uimhir Custaiméara	Léamh Reatha
1245	1000
1267	2000
1288	3000
1291	1500

(i) Mínigh cad é mar a úsáidtear an comhad idirbheartaíochta le billí na gcustaiméirí a chruthú.

_____ [2]



(ii) Cad é ról an mháistirchomhaid i dtáirgeadh na mbillí leictreachais?

[2]

(d) Tá líonra ríomhairí ag Leictreachas Aontaithe. Sa tábla thíos, ticeáil (✓) 3 ráiteas atá ceart maidir le líonraí.

Ráiteas	Ticeáil (✓)
Is féidir le húsáideoirí comhaid a roinnt ar líonra agus is féidir leo logáil isteach ag ríomhaire ar bith lena gcuid oibre a rochtain	
Stóráilann an freastalaí comhad sonraí an úsáideora agus is é an ríomhaire is lú cumhacht ar an líonra é	
Roinneann ródaire nasc líonra idir gléasanna agus is féidir leis a bheith gan sreang	
Má chuirtear balla dóiteáin isteach, laghdaíonn sé sin slándáil an líonra	
Má thugtar leibhéil dhifriúla rochtana do dhaoine, feabhsaíonn sé sin slándáil ar líonra	
Is féidir le húsáideoirí forimeallaigh a roinnt ach ní féidir leo cumarsáid a dhéanamh le húsáideoirí eile ar an líonra	

[3]

Scrúdaitheoir Amháin	
Marcanna	Athmharc

[Tiontaigh an leathanach



(e) Tá an bainisteoir TF (*IT*) freagrach as slándáil an líonra. Comhlánaigh an tábla thíos trí **dhá** shampla eile a thabhairt de rudaí a chuireann an líonra i gcontúirt agus ansin luaigh an dóigh a dtig leis an bhainisteoir TF (*IT*) an líonra a chosaint. Tá sampla amháin comhlánaithe duit.

Contúirt	Cén dóigh a dtig leis an bhainisteoir an líonra a chosaint?
lonsaí víris	Bogearraí Frithvíreas a shuiteáil agus iad a nuashonrú go rialta
[1]	[1]
[1]	[1]

Scrúdaitheoir Amháin	
Marcanna	Athmharc
Iomlán Cheist 17	



18 Bain úsáid as na téarmaí sa liosta thíos leis an téarma **amháin** a roghnú is fearr a théann leis an tsainmhíniú sa cholún ar thaobh na láimhe clé (ní bhainfear úsáid as gach téarma).

SLÁINE	FAISNÉIS	BAILÍOCHTÚ	R-THRÁCHTÁIL
POSTCHUMASC	TAISCE	IOMARCAÍOCHT	GAS (RSI)
CRR (RAM)	BLU-RAY	PICTEILÍN	CIA (ROM)
DDIA (CD-RW)	MAPA GIOTÁN	CRIPTIÚ	PAHT (HTTP)

Sainmhíniú	Téarma
Sonraí a chur isteach arís gan ghá i mbunachar sonraí	
Litreacha caighdeánacha a chruthú do roinnt daoine agus a gcuid sonraí a ghlacadh ó bhunachar sonraí	
Beachtas, iontaofacht agus cruinneas na sonraí i mbunachar sonraí	
Diosca optúil le toilleadh stórála mór go leor le scannán AD (HD) a choinneáil	
An limistéar is lú ar féidir eagarthóireacht a dhéanamh air ar ghrafaic	
Cineál cuimhne inmheánach atá neamhluaineach	
Riosca sláinte agus sábháilteachta a tharlaíonn de dheasca barraíocht úsáide a bhaint as ríomhaire	
Siopadóireacht agus idirbhearta gnó a dhéanamh ar líne	
Prótocal a úsáidtear le leathanaigh ghréasáin a chur agus a fháil	
Sonraí a ndearnadh próiseáil orthu agus ar tugadh brí dóibh	

[10]

lomlán Cheist 18

SEO DEIREADH AN SCRÚDPHÁIPÉIR

8642.02



40GIT3139

NÁ SCRÍOBH AR AN LEATHANACH SEO

Don Scrúdaitheoir amháin	
Uimhir Ceiste	Marcanna
1	
2	
3	
4	
5	
6	
7	
8	
9	
10	
11	
12	
13	
14	
15	
16	
17	
18	

Marc Iomlán	
--------------------	--

Uimhir Scrúdaitheora

Cuireadh isteach ar chead chun an t-ábhar cóipchirt uile a atáirgeadh.
I gcásanna áirithe is féidir nár éirigh le CCEA teagmháil a dhéanamh le húinéirí cóipchirt agus beidh sé sásta na hadmhálacha sin a fágadh ar lár a chur ina gceart amach anseo ach é a chur ar an eolas.

178012



40GIT3140